

➤ 2ª feira (30/03)/31/03 (3ª FEIRA)

- LÍNGUA PORTUGUESA

MOMENTO DE MEDITAÇÃO:

* Os alunos assistiram uma história sobre o pote de melado, depois desta reflexão, oramos.

* Assistir a vídeo aula.

- CIÊNCIAS

* Realizar um experimento: Plantando um pé de girassol.

* Livro páginas 22 e 23.

* Atividades no livro páginas 24 e 25.

- HISTÓRIA/GEOGRAFIA

* Vídeo aula.

* Leitura do poema: O Cravo e a Rosa.

* Sublinhar as rimas.

Atividade sobre rimas no livro páginas 63 a 65.

* Jogo da memória.

- LÍNGUA PORTUGUESA

* Assistir a vídeo aula.

* Resolver as atividades do livro páginas: 63 a 65.

• MATEMÁTICA

1) Complete a sequência numérica.

1				5					
					16				20
	22						28		




Faça o que se pede.

- a) Pinte de **amarelo** o maior número.
- b) Pinte de **azul** o numeral que vem imediatamente antes do 22.
- c) Pinte de **vermelho** o numeral que vem imediatamente depois do 16.
- d) Pinte de verde o menor número.

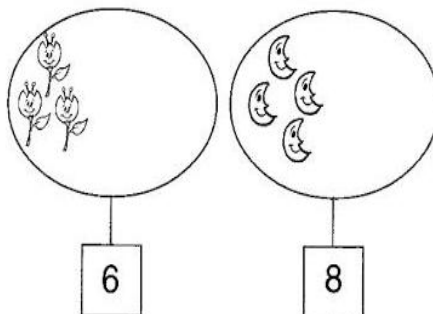
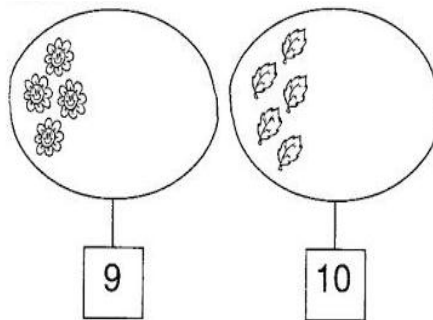
2- Desafios matemáticos.

- a) As crianças gostam muito de se divertir no clube Casa de Campo. Hoje, 5 delas brincaram de bola, 4 brincaram na piscina, e 1 brincou de skate. Registre quantas crianças brincaram no clube.
- b) Alice fez aniversário e convidou 6 crianças da sua igreja, 4 crianças da sua escola e 3 crianças são seus primos. Quantas crianças foram ao aniversário da Alice?


3- Quantas abelhinhas têm em cada grupo?







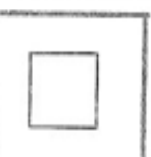
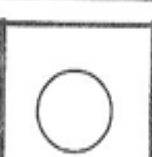


4- Complete os conjuntos abaixo de acordo com o numeral que se pede abaixo.




5-Observe o que se pede abaixo.



QUANTOS DESENHOS DE CADA VOCÊ CONTOU?

	<input type="text"/>		<input type="text"/>
	<input type="text"/>		<input type="text"/>
	<input type="text"/>		<input type="text"/>
	<input type="text"/>		<input type="text"/>

6- Conte quantas figuras tem em cada conjunto e pinte o quadradinho com o número correspondente.



3	6
5	4



5	4
3	6



6	5
4	3

4ª feira (01/04)

- CIÊNCIAS

➤ Assistir a vídeo aula e dar continuidade aos exercícios das páginas 22 a 25.

- MATEMÁTICA

➤ Assistir a vídeo aula.

➤ Resolver as atividades do livro páginas: 48 e 49.

5ª feira (02/04)/6ª feira(03/04)

- HISTÓRIA/GEOGRAFIA

* Assistir a vídeo aula e resolver as atividades propostas.

- MATEMÁTICA

* Assistir a vídeo aula.

Resolver as atividades do livro páginas: 50 e 51.

- LÍNGUA PORTUGUESA

Assistir a vídeo aula.

➤ Hoje os alunos assistirão a vídeo aula onde o conteúdo da mesma é retratar o tema páscoa, onde a família irá fazer uma reflexão juntos sobre o verdadeiro sentido da páscoa, aproveitando também a sexta feira para se organizarem caso tenham algumas atividades ainda para colocarem em dia, este é o momento.

“Porque Ele vive, posso crer no amanhã”.