

➤ **2ª feira (27/04)**

• CIÊNCIAS

- \* Aula na plataforma Zoom.
- \* Atividades no livro páginas 30 e 31.

• LÍNGUA PORTUGUESA

- \* Aula na plataforma Zoom.
- \* Atividades no livro páginas 66 e 67 (a atividade da página 67 deverá ser feita no caderno de tarefa).



➤ **3ª feira (28/04)**

• GEOGRAFIA/HISTÓRIA

- \* Aula na plataforma Zoom.
- \* Apresentação do trabalho (Árvore Genealógica), atividade no livro página 53.
- \* Atividade da folha: cruzadinha da família.

• MATEMÁTICA

- \* Aula na plataforma Zoom.
- \* Atividades da folha.
- \* TAREFA: Livro páginas: 58, 59 e 60.



## ➤ 4ª feira (29/04)

- LÍNGUA PORTUGUESA

- \* Aula na plataforma Zoom.
- \* Atividades no livro páginas: 68,69 e 70.



- CIÊNCIAS

- \* Rever as atividades do livro páginas: 30 e 31.

- MATEMÁTICA

- \* Aula na plataforma Zoom.
- \* Atividades da folha.
- \* TAREFA: Terminar a atividade da folha de matemática.



## ➤ 5ª feira (30/04)

- GEOGRAFIA/HISTÓRIA

- \* Aula na plataforma Zoom.
- \* Atividade da folha: cruzadinha da família e atividade do livro página: 55.



Natureza do Trabalho: Atividades

1º Ano

Disciplinas: Geografia/História

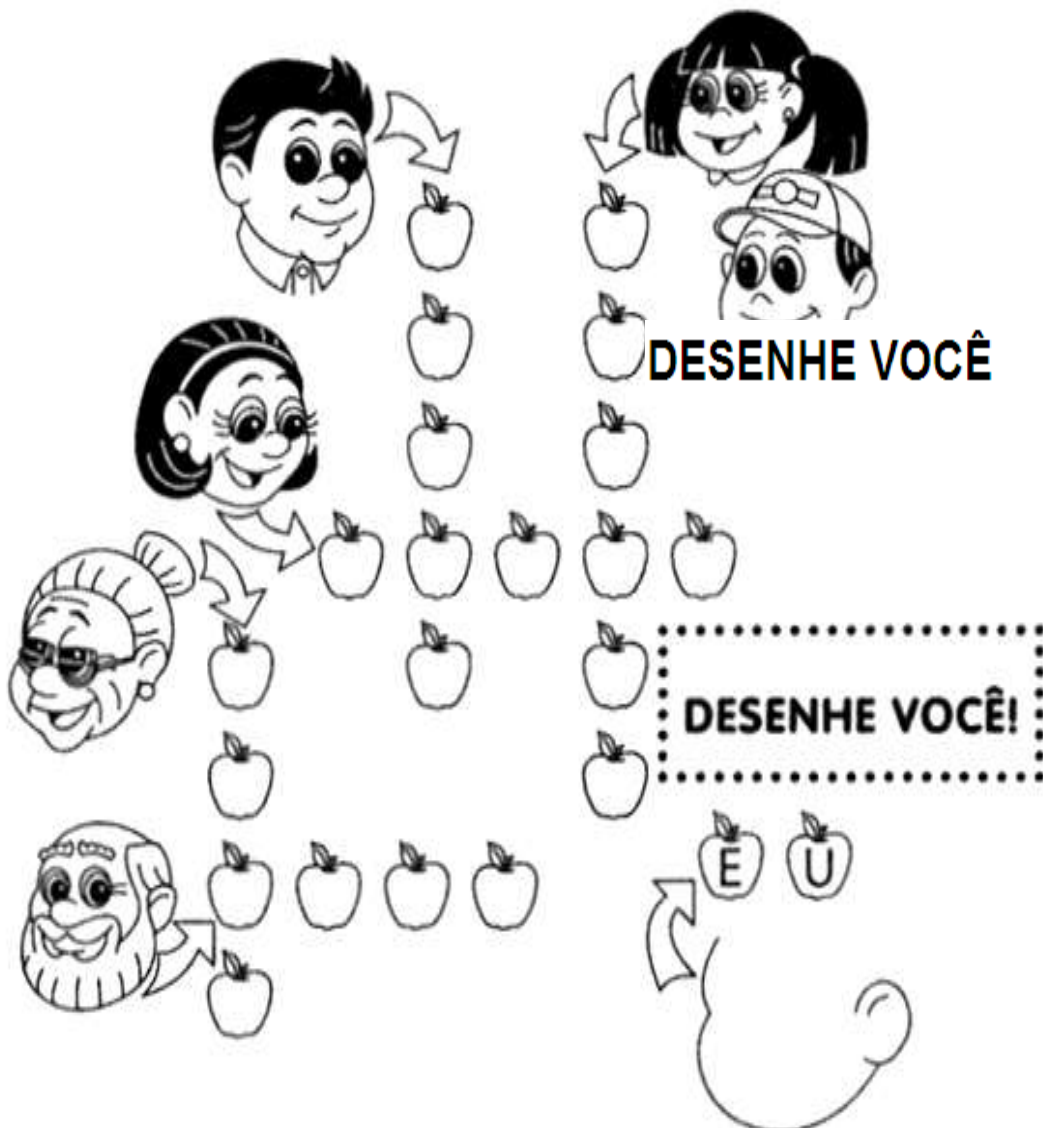
Professoras Alcione, Andreia e Darlene

Data: 28/04/2020

O Senhor é o meu pastor e nada me faltará. (Salmo 22)

## CRUZA FAMÍLIA

Complete a com as pessoas que fazem parte da sua família.  
Desenhe seu rosto na cabeça abaixo.



Devemos viver em família, respeitando e amando uns aos outros, mesmo não tendo “todas” essas pessoas juntas conosco.



O Senhor é o meu pastor e nada me faltará. (Salmo 22)

1- Leia as palavras do quadro e pinte o numeral correspondente.

Vinte e dois	<b>19</b>	<b>22</b>	<b>11</b>	<b>45</b>
Cinquenta	<b>33</b>	<b>8</b>	<b>50</b>	<b>18</b>
Dezenove	<b>15</b>	<b>34</b>	<b>26</b>	<b>19</b>
Trinta e cinco	<b>13</b>	<b>47</b>	<b>35</b>	<b>20</b>
Quinze	<b>40</b>	<b>15</b>	<b>39</b>	<b>48</b>
Onze	<b>56</b>	<b>24</b>	<b>65</b>	<b>11</b>

2- Qual é o maior número que está no quadro acima?





3- Escreva o antecessor e o sucessor dos numerais:

\_\_\_\_\_ 28 \_\_\_\_\_

\_\_\_\_\_ 19 \_\_\_\_\_

\_\_\_\_\_ 41 \_\_\_\_\_

\_\_\_\_\_ 32 \_\_\_\_\_

\_\_\_\_\_ 22 \_\_\_\_\_

\_\_\_\_\_ 15 \_\_\_\_\_

4- Resolva:

$5 + 3 = \underline{\quad}$

$8 - 6 = \underline{\quad}$

$4 + 5 = \underline{\quad}$

$9 + 4 = \underline{\quad}$

$7 - 5 = \underline{\quad}$

$3 - 2 = \underline{\quad}$



5- Resolva o desafio e marque a resposta correta.

\* Em uma árvore haviam 14 passarinhos. Chegaram mais 5. Quantos passarinhos ficaram ao todo?

Desenho	Operação	Resposta

Ao todo são:

( ) 11 passarinhos.

( ) 30 passarinhos.

( ) 19 passarinhos.

